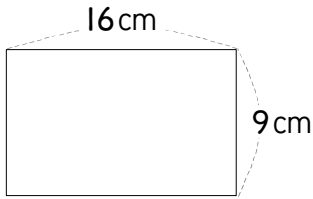


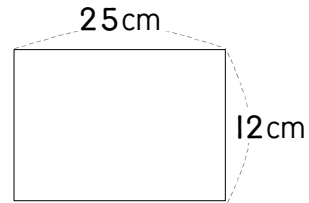
※ 비율을 소수로 나타낼 때 나누어떨어지지 않으면 반올림하여 소수 둘째 자리까지 나타내세요.

1 직사각형의 세로에 대한 가로의 비율을 구하세요.



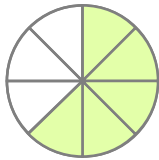
답 $\frac{16}{9} (= 1.78)$

2 직사각형의 가로에 대한 세로의 비율을 구하세요.



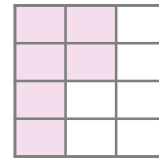
답 _____

3 전체에 대한 색칠한 부분의 비율을 구하세요.



답 _____

3 전체에 대한 색칠한 부분의 비율을 구하세요.



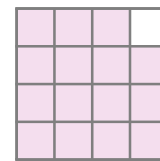
답 _____

5 전체에 대한 색칠하지 않은 부분의 비율을 구하세요.



답 _____

5 전체에 대한 색칠하지 않은 부분의 비율을 구하세요.



답 _____

