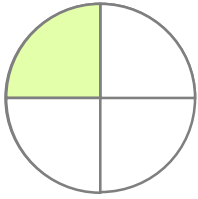



☺ 비와 비율을 구하세요.




	비	비율		백분율
		(분수)	(소수)	
전체에 대한 색칠한 부분	1 : 4	$\frac{1}{4}$	0.25	25%
전체에 대한 색칠하지 않은 부분		(분수)	(소수)	



	비	비율		백분율
		(분수)	(소수)	
전체에 대한 색칠한 부분				
전체에 대한 색칠하지 않은 부분		(분수)	(소수)	



	비	비율		백분율
		(분수)	(소수)	
전체에 대한 색칠한 부분				
전체에 대한 색칠하지 않은 부분		(분수)	(소수)	



	비	비율		백분율
		(분수)	(소수)	
전체에 대한 색칠한 부분				
전체에 대한 색칠하지 않은 부분		(분수)	(소수)	

