







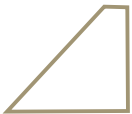


☺ 직사각형이란? _____

☺ 정사각형이란? _____

☺ 직사각형을 한 개 그려 보세요.

☺ 정사각형을 한 개 그려 보세요.

☺ 알맞은 표현에 모두 하세요.

 <input checked="" type="radio"/> 사각형 <input checked="" type="radio"/> 직사각형 <input type="radio"/> 정사각형	 <input type="radio"/> 사각형 <input type="radio"/> 직사각형 <input type="radio"/> 정사각형	 <input type="radio"/> 사각형 <input type="radio"/> 직사각형 <input type="radio"/> 정사각형
 <input type="radio"/> 사각형 <input type="radio"/> 직사각형 <input type="radio"/> 정사각형	 <input type="radio"/> 사각형 <input type="radio"/> 직사각형 <input type="radio"/> 정사각형	 <input type="radio"/> 사각형 <input type="radio"/> 직사각형 <input type="radio"/> 정사각형
 <input type="radio"/> 사각형 <input type="radio"/> 직사각형 <input type="radio"/> 정사각형	 <input type="radio"/> 사각형 <input type="radio"/> 직사각형 <input type="radio"/> 정사각형	 <input type="radio"/> 사각형 <input type="radio"/> 직사각형 <input type="radio"/> 정사각형

☺ O, X 로 답하세요.

* 정사각형은 직사각형이라고 할 수 있다. ()

* 직사각형은 정사각형이라고 할 수 있다. ()

