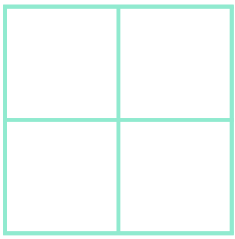


☺ 다음 도형에서 찾을 수 있는 크고 작은 정사각형이 모두 몇 개인지 세어 보세요.

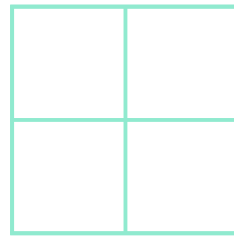


\_\_\_\_\_ 개



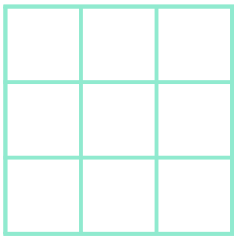
와 크기가  
같은 정사각형

**4** 개



**1** 개

와 크기가  
같은 정사각형




\_\_\_\_\_ 개



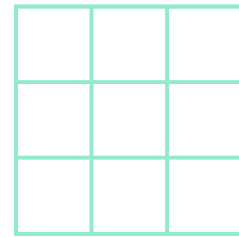
와 크기가  
같은 정사각형

\_\_\_\_\_ 개



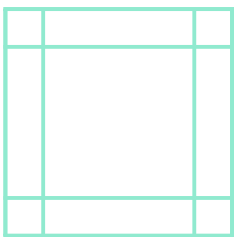
와 크기가  
같은 정사각형

\_\_\_\_\_ 개



\_\_\_\_\_ 개

와 크기가  
같은 정사각형



\_\_\_\_\_ 개




와 크기가  
같은 정사각형

\_\_\_\_\_ 개



와 크기가  
같은 정사각형

\_\_\_\_\_ 개



\_\_\_\_\_ 개

와 크기가  
같은 정사각형



정답