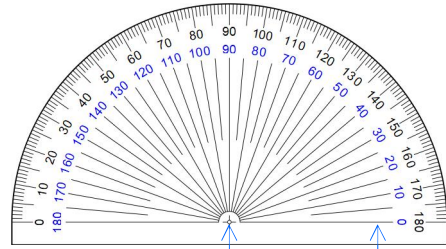
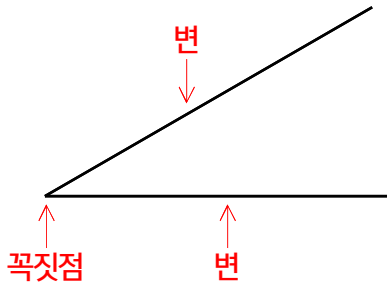
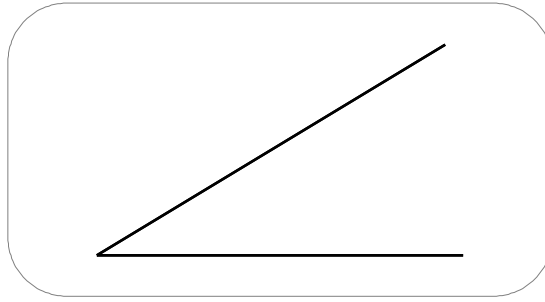


☺ 각의 크기를 재는 방법을 알아 보세요. (오른쪽으로 벌어진 각)



각도기의 중심 밑금

①

꼭짓점과 각도기의 중심을 맞춥니다.
각의 한 변과 각도기의 밑금을 맞춥니다.

②

0부터 시작하는 눈금을 읽습니다.

☺ 각의 크기는 몇 도인지 재어 보세요.

