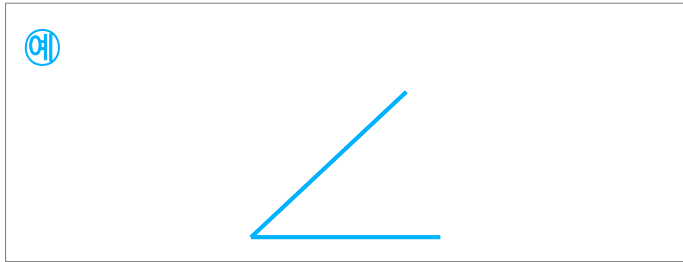


☺ 예각이란?


직각보다 작은 각

☺ 둔각이란?

☺ 예각을 한 개 그려 보세요.

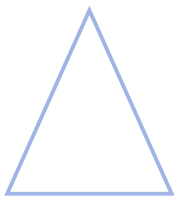


☺ 둔각을 한 개 그려 보세요.

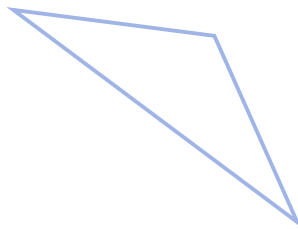


☺ 삼각형에는 각이 3개, 사각형에는 각이 4개 있습니다.

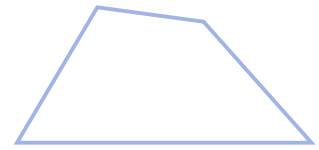
다음 도형에서 각각 예각이 몇 개인지 쓰세요. (예각이 없으면 0개라고 쓰세요.)



_____ 개



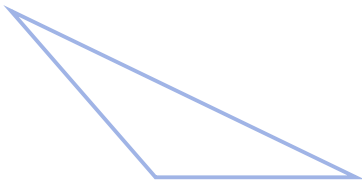
_____ 개



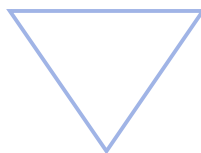
_____ 개

☺ 삼각형에는 각이 3개, 사각형에는 각이 4개 있습니다.

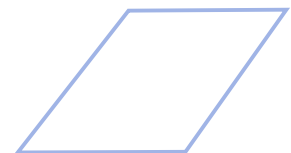
다음 도형에서 각각 둔각이 몇 개인지 쓰세요. (둔각이 없으면 0개라고 쓰세요.)



_____ 개



_____ 개



_____ 개

