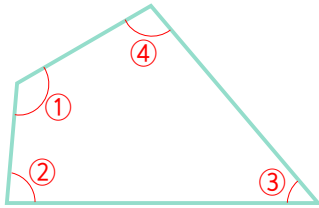


☺ 사각형의 네 각의 크기를 재어 보세요. 그리고 네 각을 모두 더하세요.

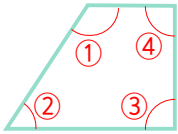


① : 125° ② : _____

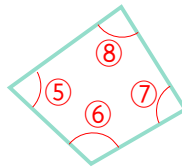
③ : _____ ④ : _____

①+②+③+④= _____

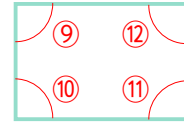
☺ 모든 사각형은 네 각의 크기의 합이 360° 입니다.



①+②+③+④= 360°



⑤+⑥+⑦+⑧= 360°



⑨+⑩+⑪+⑫= 360°

☺ 사각형의 네 각의 크기의 합이 360° 임을 이용하여 □ 안에 알맞은 각도를 구하세요.

