


☺ 그림을 보고 모으기를 완성하세요. 그리고 덧셈식을 쓰고 읽어 보세요.


수박이 1개 있는데 4개 더 사면 모두 몇 개일까요?



$$1 + 4 = 5$$

읽기
1 더하기 4는 5와 같습니다.
1과 4의 합은 5입니다.


수박이 2개 있는데 2개 더 사면 모두 몇 개일까요?



$$2 + 2 = \underline{\quad}$$

읽기
소리내어 읽고 ✓ 하세요.


수박이 3개 있는데 5개 더 사면 모두 몇 개일까요?



$$\underline{\quad} + \underline{\quad} = \underline{\quad}$$

읽기
소리내어 읽고 ✓ 하세요.

수박이 1개 있는데 3개 더 사면 모두 몇 개일까요?



$$\underline{\quad} + \underline{\quad} = \underline{\quad}$$

읽기
소리내어 읽고 ✓ 하세요.

