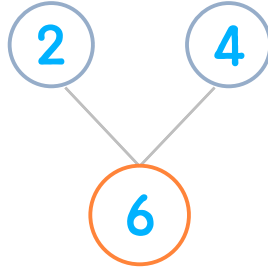



☺ 그림을 보고 모으기를 완성하세요. 그리고 덧셈식을 쓰고 읽어 보세요.

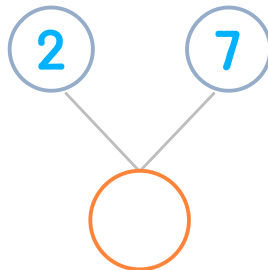

바나나가 2개 있는데 4개 더 사면 모두 몇 개일까요?



$$2 + 4 = 6$$

읽기
2 더하기 4는 6과 같습니다.
2와 4의 합은 6입니다.

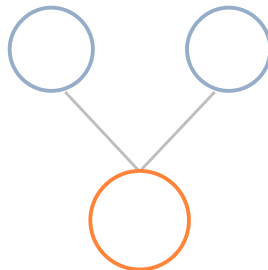

바나나가 2개 있는데 7개 더 사면 모두 몇 개일까요?



$$2 + 7 = \underline{\quad}$$

읽기
소리내어 읽고 ✓ 하세요.

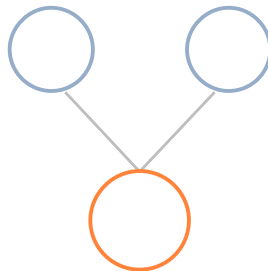

바나나가 4개 있는데 4개 더 사면 모두 몇 개일까요?



$$\underline{\quad} + \underline{\quad} = \underline{\quad}$$

읽기
소리내어 읽고 ✓ 하세요.

바나나가 7개 있는데 2개 더 사면 모두 몇 개일까요?



$$\underline{\quad} + \underline{\quad} = \underline{\quad}$$

읽기
소리내어 읽고 ✓ 하세요.

