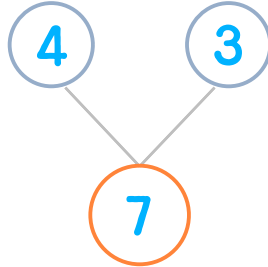



☺ 그림을 보고 모으기를 완성하세요. 그리고 덧셈식을 쓰고 읽어 보세요.

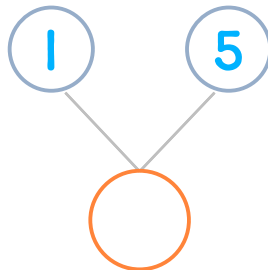

물고기 4마리와 3마리를 합하면 모두 몇 마리일까요?



$$4 + 3 = 7$$

읽기
4 더하기 3은 7과 같습니다.
4와 3의 합은 7입니다.

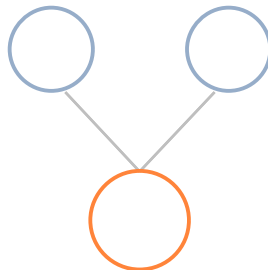
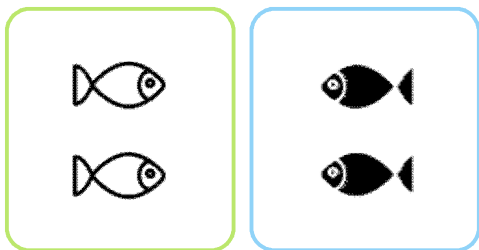
물고기 1마리와 5마리를 합하면 모두 몇 마리일까요?



$$1 + 5 = \underline{\quad}$$

읽기
소리내어 읽고 ✓ 하세요.

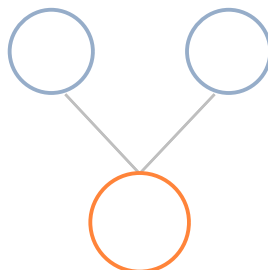

물고기 2마리와 2마리를 합하면 모두 몇 마리일까요?



$$\underline{\quad} + \underline{\quad} = \underline{\quad}$$

읽기
소리내어 읽고 ✓ 하세요.

물고기 3마리와 1마리를 합하면 모두 몇 마리일까요?



$$\underline{\quad} + \underline{\quad} = \underline{\quad}$$

읽기
소리내어 읽고 ✓ 하세요.

