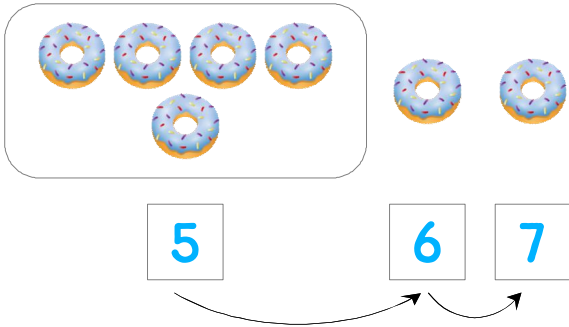


☺ 그림을 보고 이어서 세어 보세요. 그리고 덧셈식을 쓰고 읽어 보세요.

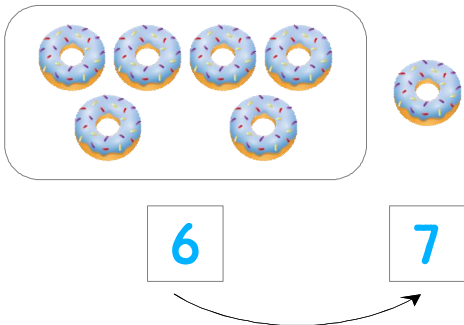
도넛이 5개 있는데 2개 더 사면 모두 몇 개일까요?



$$5 + 2 = 7$$

읽기
5 더하기 2는 7과 같습니다.
5와 2의 합은 7입니다.

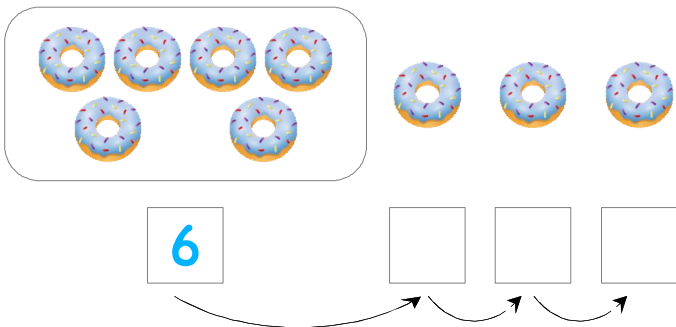
도넛이 6개 있는데 1개 더 사면 모두 몇 개일까요?



$$6 + 1 = \underline{\quad}$$

읽기
소리내어 읽고 ✓ 하세요.

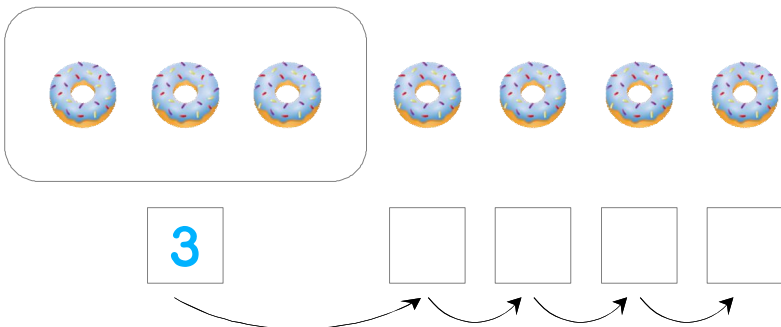
도넛이 6개 있는데 3개 더 사면 모두 몇 개일까요?



$$\underline{\quad} + \underline{\quad} = \underline{\quad}$$

읽기
소리내어 읽고 ✓ 하세요.

도넛이 3개 있는데 4개 더 사면 모두 몇 개일까요?



$$\underline{\quad} + \underline{\quad} = \underline{\quad}$$

읽기
소리내어 읽고 ✓ 하세요.

