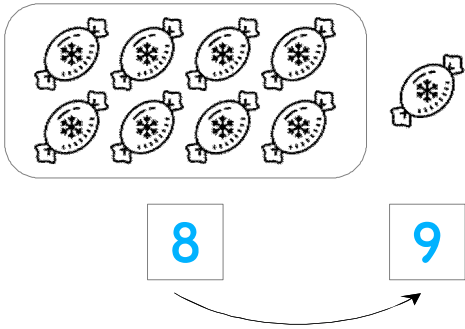


☺ 그림을 보고 이어서 세어 보세요. 그리고 덧셈식을 쓰고 읽어 보세요.

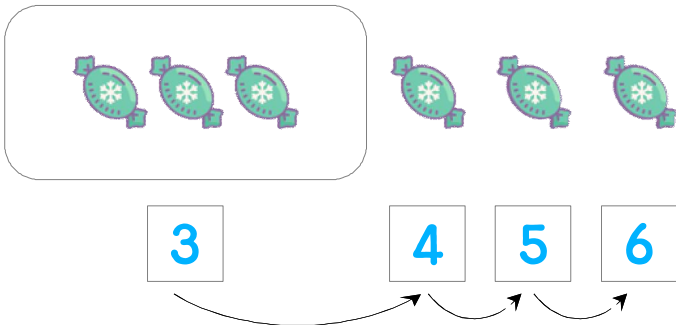
사탕 8개와 1개를 합하면 모두 몇 개일까요?



$$8 + 1 = 9$$

읽기
8 더하기 1은 9와 같습니다.
8과 1의 합은 9입니다.

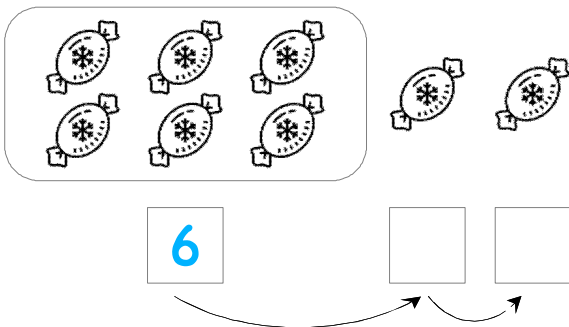
사탕 3개와 3개를 합하면 모두 몇 개일까요?



$$3 + 3 = \underline{\quad}$$

읽기
소리내어 읽고 ✓ 하세요.

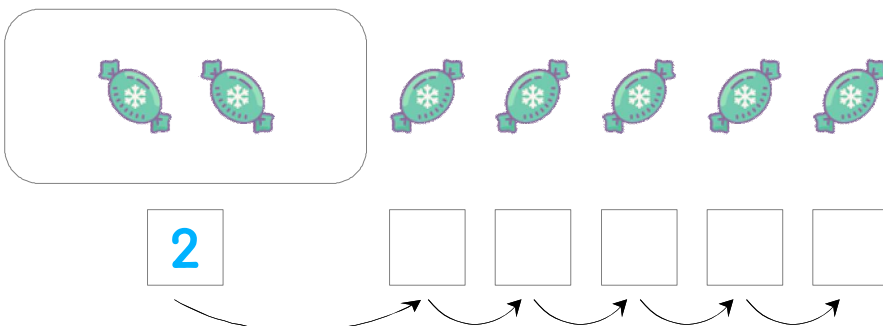
사탕 6개와 2개를 합하면 모두 몇 개일까요?



$$\underline{\quad} + \underline{\quad} = \underline{\quad}$$

읽기
소리내어 읽고 ✓ 하세요.

사탕 2개와 5개를 합하면 모두 몇 개일까요?



$$\underline{\quad} + \underline{\quad} = \underline{\quad}$$

읽기
소리내어 읽고 ✓ 하세요.

