


☺ 그림을 보고 이어서 세어 보세요. 그리고 덧셈식을 쓰고 읽어 보세요.

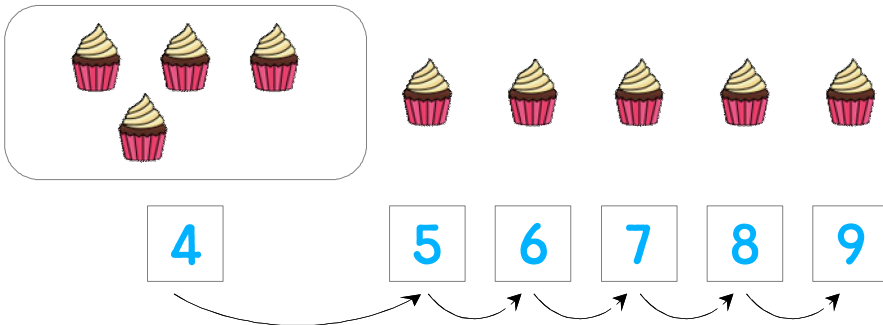
컵케이크 5개와 1개를 합하면 모두 몇 개일까요?



$$5 + 1 = 6$$

읽기
5 더하기 1은 6과 같습니다.
5와 1의 합은 6입니다.

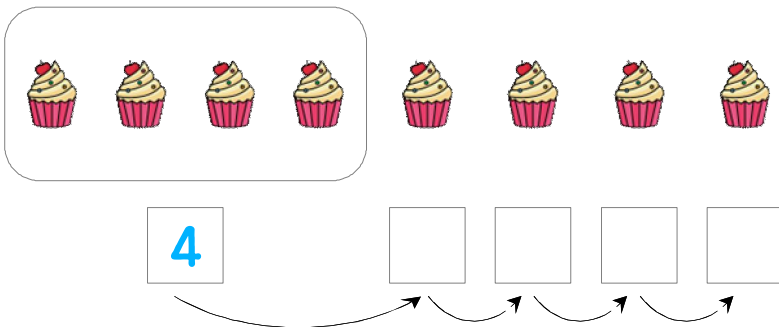
컵케이크 4개와 5개를 합하면 모두 몇 개일까요?



$$4 + 5 = \underline{\quad}$$

읽기
소리내어 읽고 ✓ 하세요.

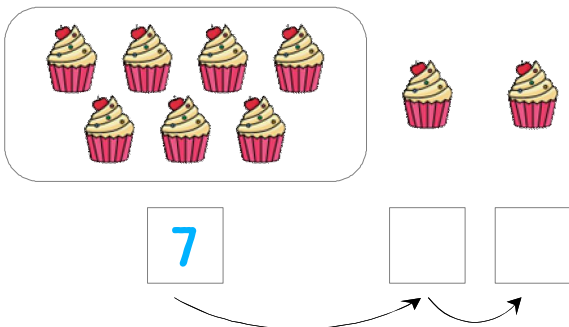
컵케이크 4개와 4개를 합하면 모두 몇 개일까요?



$$\underline{\quad} + \underline{\quad} = \underline{\quad}$$

읽기
소리내어 읽고 ✓ 하세요.

컵케이크 7개와 2개를 합하면 모두 몇 개일까요?



$$\underline{\quad} + \underline{\quad} = \underline{\quad}$$

읽기
소리내어 읽고 ✓ 하세요.

