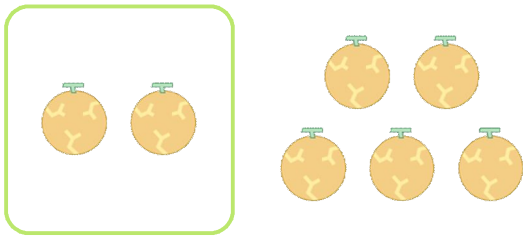


☺ 그림을 보고 덧셈식을 만들어 보세요.

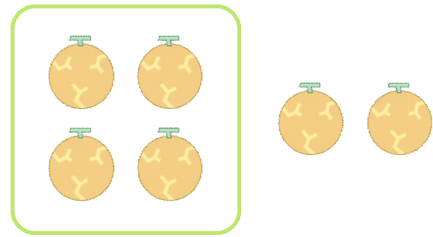


멜론이 2개 있는데

2 개를 더 샀습니다.

$$\underline{2} + \underline{2} = \underline{4}$$

멜론은 모두 4 개입니다.

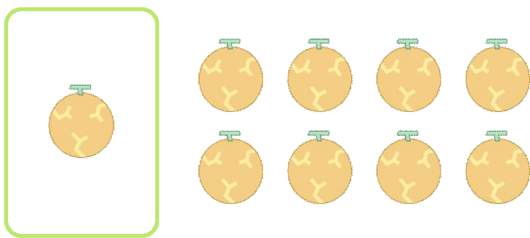


멜론이 4개 있는데

_____ 개를 더 샀습니다.

$$\underline{\quad} + \underline{\quad} = \underline{\quad}$$

멜론은 모두 _____ 개입니다.

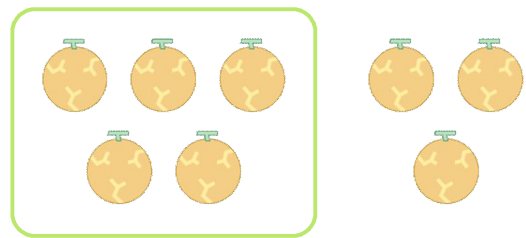


멜론이 1개 있는데

_____ 개를 더 샀습니다.

$$\underline{\quad} + \underline{\quad} = \underline{\quad}$$

멜론은 모두 _____ 개입니다.



멜론이 5개 있는데

_____ 개를 더 샀습니다.

$$\underline{\quad} + \underline{\quad} = \underline{\quad}$$

멜론은 모두 _____ 개입니다.

