



☺ 그림을 보고 덧셈식을 만들어 보세요.



샌드위치가 3개 있는데
3 개를 더 샀습니다.

$$\underline{3} + \underline{3} = \underline{6}$$


샌드위치는 모두 6 개입니다.



샌드위치가 2개 있는데
_____ 개를 더 샀습니다.

$$\underline{\quad} + \underline{\quad} = \underline{\quad}$$


샌드위치는 모두 _____ 개입니다.



샌드위치가 4개 있는데
_____ 개를 더 샀습니다.

$$\underline{\quad} + \underline{\quad} = \underline{\quad}$$

샌드위치는 모두 _____ 개입니다.



샌드위치가 5개 있는데
_____ 개를 더 샀습니다.

$$\underline{\quad} + \underline{\quad} = \underline{\quad}$$

샌드위치는 모두 _____ 개입니다.

