


☺ 그림을 보고 덧셈식을 만들어 보세요.




우산이 6개 있는데

1 개를 더 샀습니다.

$$\underline{6} + \underline{1} = \underline{7}$$

우산은 모두 7 개입니다.




우산이 1개 있는데

개를 더 샀습니다.

$$\underline{\quad} + \underline{\quad} = \underline{\quad}$$

우산은 모두 개입니다.




우산이 2개 있는데

개를 더 샀습니다.

$$\underline{\quad} + \underline{\quad} = \underline{\quad}$$

우산은 모두 개입니다.



우산이 1개 있는데

개를 더 샀습니다.

$$\underline{\quad} + \underline{\quad} = \underline{\quad}$$

우산은 모두 개입니다.

