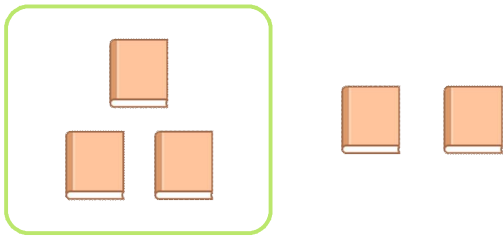


☺ 그림을 보고 덧셈식을 만들어 보세요.

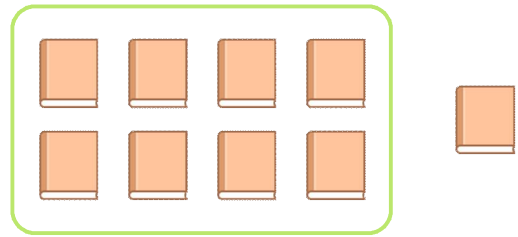


책이 3권 있는데

2 권을 더 샀습니다.

$$\underline{3} + \underline{2} = \underline{5}$$

책은 모두 5 권입니다.

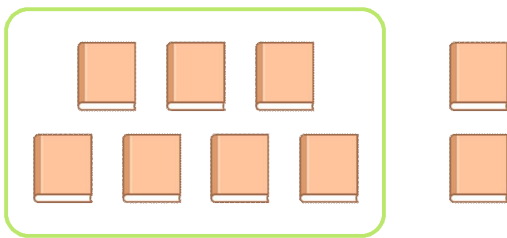


책이 8권 있는데

_____ 권을 더 샀습니다.

$$\underline{\quad} + \underline{\quad} = \underline{\quad}$$

책은 모두 _____ 권입니다.

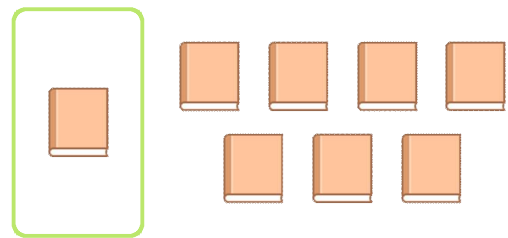


책이 7권 있는데

_____ 권을 더 샀습니다.

$$\underline{\quad} + \underline{\quad} = \underline{\quad}$$

책은 모두 _____ 권입니다.



책이 1권 있는데

_____ 권을 더 샀습니다.

$$\underline{\quad} + \underline{\quad} = \underline{\quad}$$

책은 모두 _____ 권입니다.

