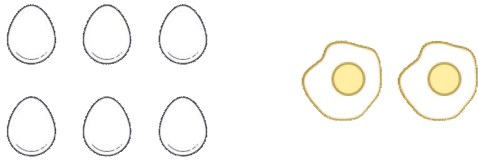
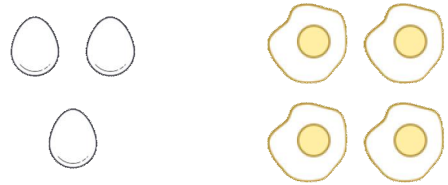


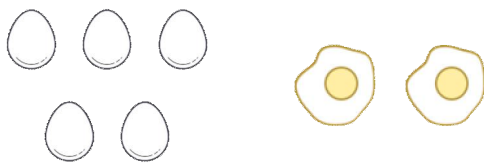
☺ 그림을 보고 덧셈식을 만들어 보세요.



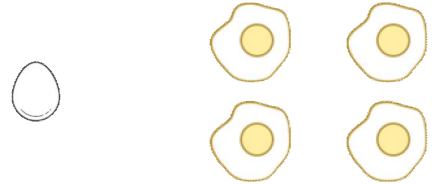
삶은 달걀은 6 개  
 달걀 프라이는 2 개  
 $6 + 2 = 8$   
 달걀은 모두 8 개입니다.



삶은 달걀은 \_\_\_\_\_ 개  
 달걀 프라이는 \_\_\_\_\_ 개  
 $\quad + \quad =$   
 달걀은 모두 \_\_\_\_\_ 개입니다.



삶은 달걀은 \_\_\_\_\_ 개  
 달걀 프라이는 \_\_\_\_\_ 개  
 $\quad + \quad =$   
 달걀은 모두 \_\_\_\_\_ 개입니다.



삶은 달걀은 \_\_\_\_\_ 개  
 달걀 프라이는 \_\_\_\_\_ 개  
 $\quad + \quad =$   
 달걀은 모두 \_\_\_\_\_ 개입니다.

