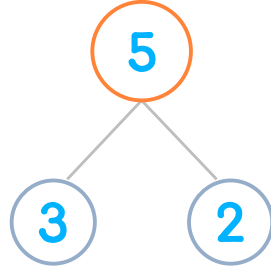
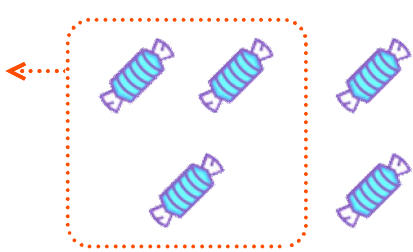


☺ 그림을 보고 가르기를 완성하세요. 그리고 뺄셈식을 쓰고 읽어 보세요.

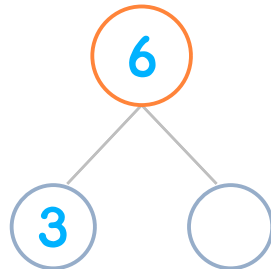
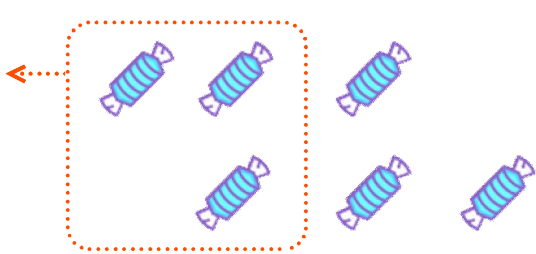
사탕 5개 중에서 3개를 친구에게 주었습니다. 남은 사탕은 몇 개일까요?



$$5 - 3 = 2$$

읽기  
5 빼기 3은 2와 같습니다.  
5와 3의 차는 2입니다.

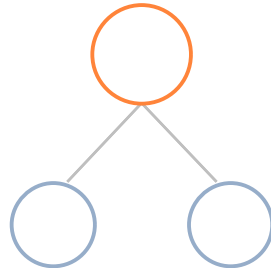
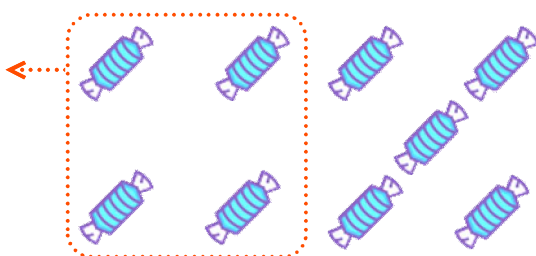
사탕 6개 중에서 3개를 친구에게 주었습니다. 남은 사탕은 몇 개일까요?



$$6 - 3 = \underline{\quad}$$

읽기   
소리내어 읽고 ✓ 하세요.

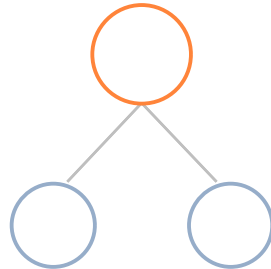

사탕 9개 중에서 4개를 친구에게 주었습니다. 남은 사탕은 몇 개일까요?



$$\underline{\quad} - \underline{\quad} = \underline{\quad}$$

읽기   
소리내어 읽고 ✓ 하세요.

사탕 8개 중에서 6개를 친구에게 주었습니다. 남은 사탕은 몇 개일까요?



$$\underline{\quad} - \underline{\quad} = \underline{\quad}$$

읽기   
소리내어 읽고 ✓ 하세요.



정답