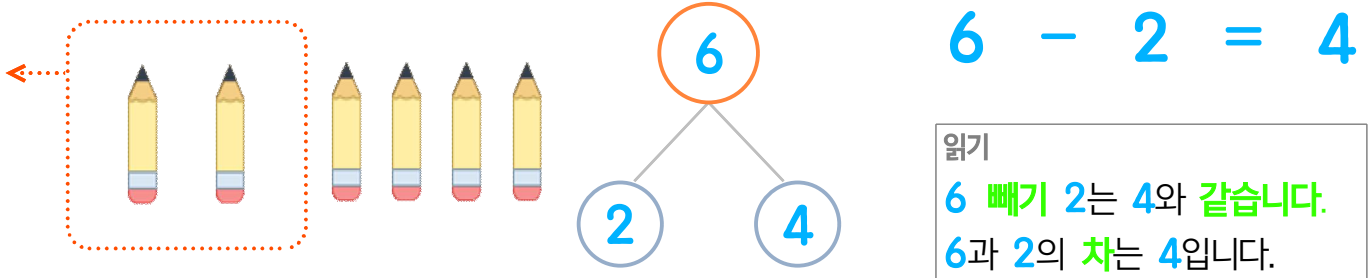


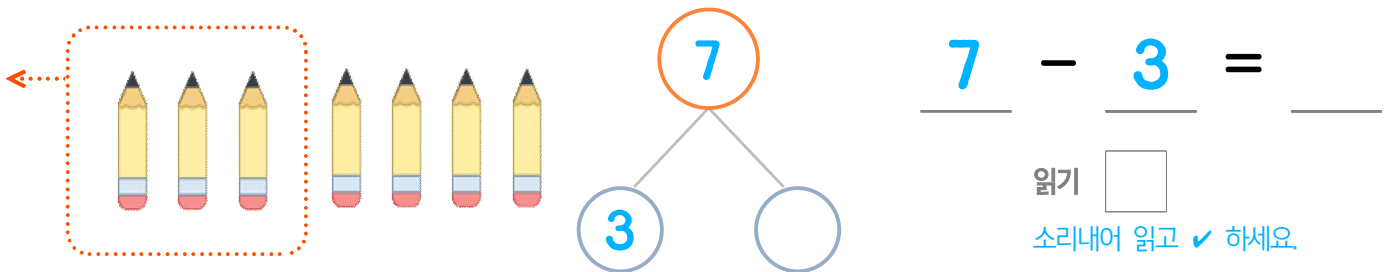
☺ 그림을 보고 가르기를 완성하세요. 그리고 뺄셈식을 쓰고 읽어 보세요.

연필 6자루 중에서 2자루를 동생에게 주었습니다. 남은 연필은 몇 자루일까요?



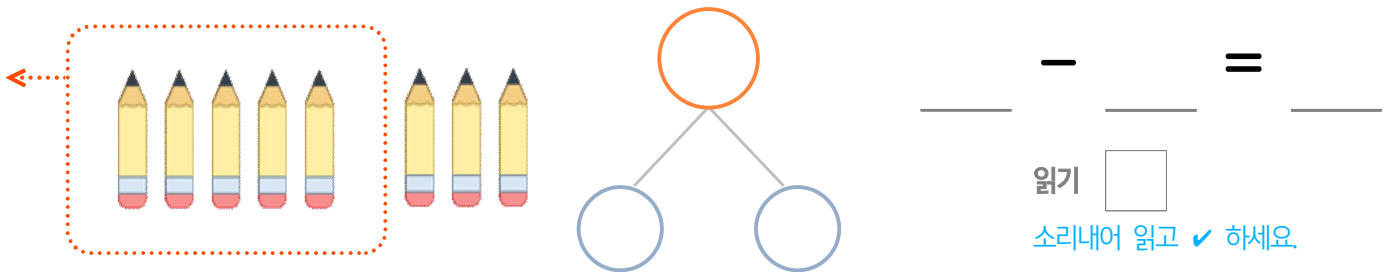
읽기
6 빼기 2는 4와 같습니다.
6과 2의 차는 4입니다.

연필 7자루 중에서 3자루를 동생에게 주었습니다. 남은 연필은 몇 자루일까요?



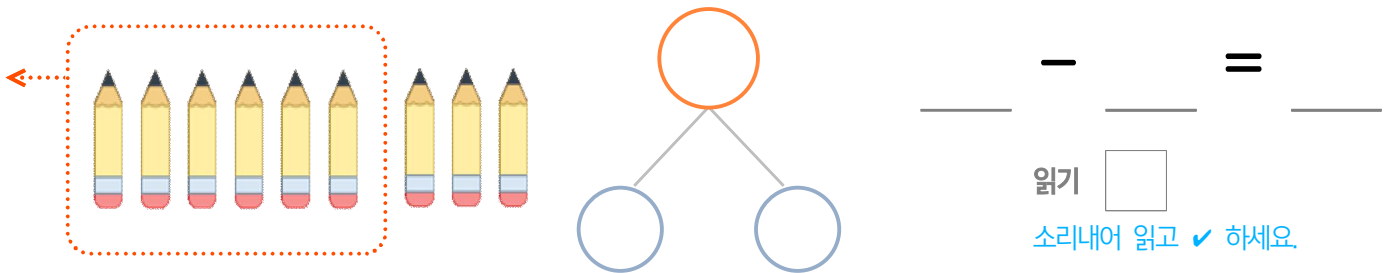
읽기
소리내어 읽고 ✓ 하세요.

연필 8자루 중에서 5자루를 동생에게 주었습니다. 남은 연필은 몇 자루일까요?



읽기
소리내어 읽고 ✓ 하세요.

연필 9자루 중에서 6자루를 동생에게 주었습니다. 남은 연필은 몇 자루일까요?



읽기
소리내어 읽고 ✓ 하세요.



정답