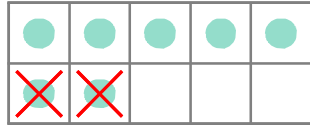



☺ 그림을 보고 ✕ 로 지우세요. 그리고 뺄셈식을 쓰고 읽어 보세요.

바나나 7개 중에서 2개를 먹었습니다. 남은 바나나는 몇 개일까요?



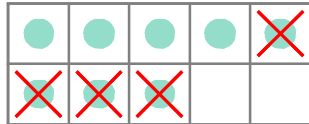

$$7 - 2 = 5$$

읽기

7 빼기 2는 5와 같습니다.

7과 2의 차는 5입니다.

바나나 8개 중에서 4개를 먹었습니다. 남은 바나나는 몇 개일까요?

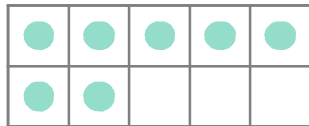



$$8 - 4 = \underline{\quad}$$

읽기

소리내어 읽고 ✓ 하세요.

바나나 7개 중에서 4개를 먹었습니다. 남은 바나나는 몇 개일까요?

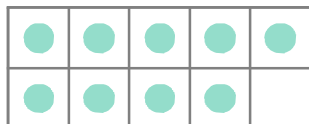


$$\underline{\quad} - \underline{\quad} = \underline{\quad}$$

읽기

소리내어 읽고 ✓ 하세요.

바나나 9개 중에서 3개를 먹었습니다. 남은 바나나는 몇 개일까요?



$$\underline{\quad} - \underline{\quad} = \underline{\quad}$$

읽기

소리내어 읽고 ✓ 하세요.



정답