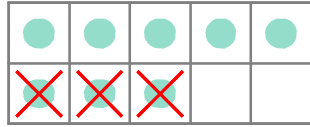
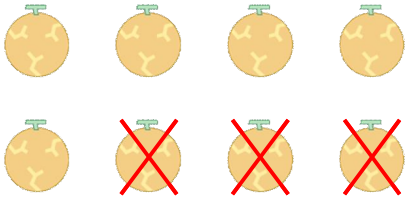


☺ 그림을 보고 ✕ 로 지우세요. 그리고 뺄셈식을 쓰고 읽어 보세요.

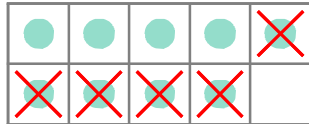
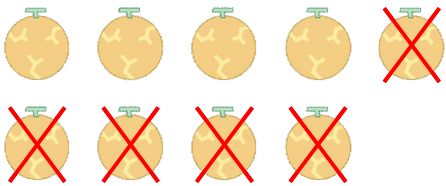
멜론 8개 중에서 3개를 이웃집에 주었습니다. 남은 멜론은 몇 개일까요?



$$8 - 3 = 5$$

읽기
8 빼기 3은 5와 같습니다.
8과 3의 차는 5입니다.

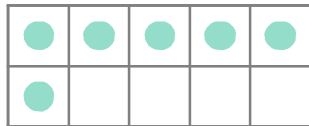
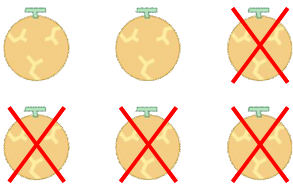
멜론 9개 중에서 5개를 이웃집에 주었습니다. 남은 멜론은 몇 개일까요?



$$\underline{9} - \underline{5} = \underline{\quad}$$

읽기
소리내어 읽고 ✓ 하세요.

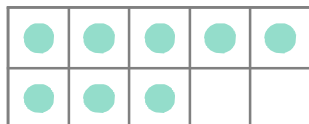
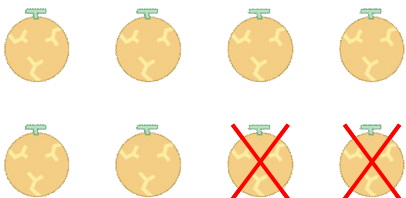
멜론 6개 중에서 4개를 이웃집에 주었습니다. 남은 멜론은 몇 개일까요?



$$\underline{\quad} - \underline{\quad} = \underline{\quad}$$

읽기
소리내어 읽고 ✓ 하세요.

멜론 8개 중에서 2개를 이웃집에 주었습니다. 남은 멜론은 몇 개일까요?



$$\underline{\quad} - \underline{\quad} = \underline{\quad}$$

읽기
소리내어 읽고 ✓ 하세요.

