


☺ ● 과 ○ 를 선으로 이어서 차를 구하세요. 그리고 빨셈식을 쓰고 읽어 보세요.


막대아이스크림은 8개, 콘아이스크림은 3개 있습니다. 막대아이스크림이 몇 개 더 많은가요?



$$8 - 3 = 5$$

읽기  
8 빼기 3은 5와 같습니다.  
8과 3의 차는 5입니다.

막대아이스크림은 6개, 콘아이스크림은 7개 있습니다. 콘아이스크림이 몇 개 더 많은가요?



$$7 - 6 = \underline{\quad}$$

읽기   
소리내어 읽고 ✓ 하세요.


막대아이스크림은 6개, 콘아이스크림은 5개 있습니다. 막대아이스크림이 몇 개 더 많은가요?



$$\underline{\quad} - \underline{\quad} = \underline{\quad}$$

읽기   
소리내어 읽고 ✓ 하세요.

막대아이스크림은 4개, 콘아이스크림은 9개 있습니다. 콘아이스크림이 몇 개 더 많은가요?



$$\underline{\quad} - \underline{\quad} = \underline{\quad}$$

읽기   
소리내어 읽고 ✓ 하세요.

