



☺ 그림을 보고 뽕샌wich를 만들어 보세요.



샌드위치가 7개 있는데  
3 개를 먹었습니다.

$$\underline{7} - \underline{3} = \underline{4}$$


남은 샌드위치는 4 개입니다.



샌드위치가 8개 있는데  
   개를 먹었습니다.

$$\underline{\quad} - \underline{\quad} = \underline{\quad}$$


남은 샌드위치는     개입니다.



샌드위치가 9개 있는데  
   개를 먹었습니다.

$$\underline{\quad} - \underline{\quad} = \underline{\quad}$$

남은 샌드위치는     개입니다.



샌드위치가 6개 있는데  
   개를 먹었습니다.

$$\underline{\quad} - \underline{\quad} = \underline{\quad}$$

남은 샌드위치는     개입니다.

