


☺ 그림을 보고 빨셈식을 만들어 보세요.




딸기가 8개 있는데

3 개를 먹었습니다.

$$\underline{8} - \underline{3} = \underline{5}$$

남은 딸기는 5 개입니다.



딸기가 7개 있는데

개를 먹었습니다.

$$\underline{\quad} - \underline{\quad} = \underline{\quad}$$

남은 딸기는        개입니다.




딸기가 6개 있는데

개를 먹었습니다.

$$\underline{\quad} - \underline{\quad} = \underline{\quad}$$

남은 딸기는        개입니다.



딸기가 9개 있는데

개를 먹었습니다.

$$\underline{\quad} - \underline{\quad} = \underline{\quad}$$

남은 딸기는        개입니다.

