


☺ 그림을 보고 빨셈식을 만들어 보세요.




도토리는 6 개 있고

사탕은 3 개 있습니다.

$$\underline{6} - \underline{3} = \underline{3}$$

도토리가 3 개 더 많습니다.



도토리는 \_\_\_\_\_ 개 있고

사탕은 \_\_\_\_\_ 개 있습니다.

$$\underline{\quad} - \underline{\quad} = \underline{\quad}$$

사탕이 \_\_\_\_\_ 개 더 많습니다.

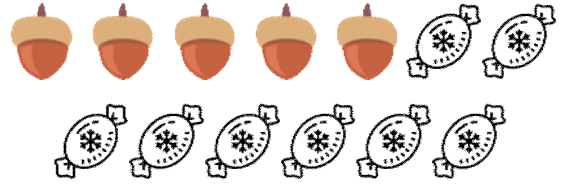


도토리는 \_\_\_\_\_ 개 있고

사탕은 \_\_\_\_\_ 개 있습니다.

$$\underline{\quad} - \underline{\quad} = \underline{\quad}$$

사탕이 \_\_\_\_\_ 개 더 많습니다.



도토리는 \_\_\_\_\_ 개 있고

사탕은 \_\_\_\_\_ 개 있습니다.

$$\underline{\quad} - \underline{\quad} = \underline{\quad}$$

사탕이 \_\_\_\_\_ 개 더 많습니다.

정답

