


☺ 그림을 보고 뽕셈식을 만들어 보세요.




복숭아는 7 개 있고

레몬은 3 개 있습니다.

$$\underline{7} - \underline{3} = \underline{4}$$

복숭아가 4 개 더 많습니다.




복숭아는 개 있고

레몬은 개 있습니다.

$$\underline{\quad} - \underline{\quad} = \underline{\quad}$$

레몬이 개 더 많습니다.




복숭아는 개 있고

레몬은 개 있습니다.

$$\underline{\quad} - \underline{\quad} = \underline{\quad}$$

레몬이 개 더 많습니다.



복숭아는 개 있고

레몬은 개 있습니다.

$$\underline{\quad} - \underline{\quad} = \underline{\quad}$$

레몬이 개 더 많습니다.

