


☺ 그림을 보고 덧셈식과 뺄셈식으로 나타내세요.



동그란 과자와 네모난 과자의 수를 합하면?

$$4 + 2 = 6$$

덧셈식

또는


$$2 + 4 = 6$$

과자 전체 중에서 동그란 과자의 수는?


뺄셈식 $6 - 2 = 4$

과자 전체 중에서 네모난 과자의 수는?

뺄셈식 $6 - 4 = 2$



+	=
_____	_____
+	=
_____	_____
-	=
_____	_____
-	=
_____	_____



+	=
_____	_____
+	=
_____	_____
-	=
_____	_____
-	=
_____	_____

