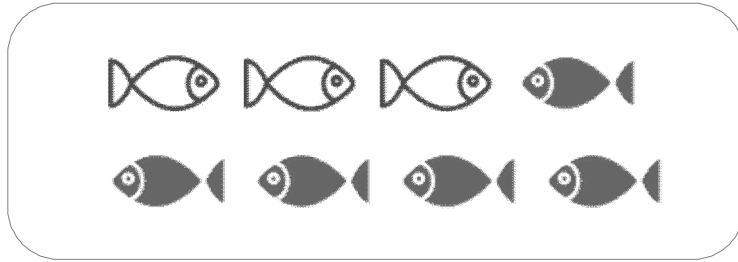


☺ 그림을 보고 덧셈식과 뺄셈식으로 나타내세요.



흰 물고기와 검은 물고기의 수를 합하면?

$$3 + 5 = 8$$

덧셈식

또는


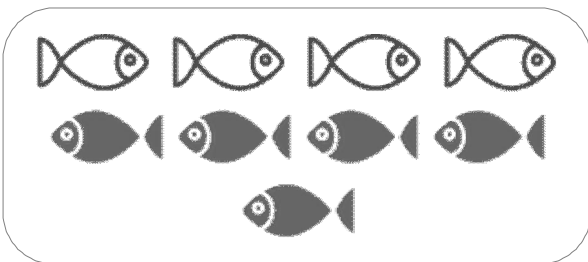
$$5 + 3 = 8$$

물고기 전체 중에서 검은 물고기의 수는?

뺄셈식 $8 - 3 = 5$

물고기 전체 중에서 흰 물고기의 수는?

뺄셈식 $8 - 5 = 3$



$$\underline{\quad} + \underline{\quad} = \underline{\quad}$$

$$\underline{\quad} + \underline{\quad} = \underline{\quad}$$

$$\underline{\quad} - \underline{\quad} = \underline{\quad}$$

$$\underline{\quad} - \underline{\quad} = \underline{\quad}$$

$$\underline{\quad} + \underline{\quad} = \underline{\quad}$$

$$\underline{\quad} + \underline{\quad} = \underline{\quad}$$

$$\underline{\quad} - \underline{\quad} = \underline{\quad}$$

$$\underline{\quad} - \underline{\quad} = \underline{\quad}$$

