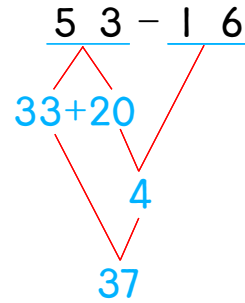
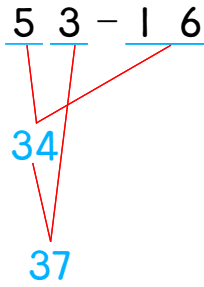
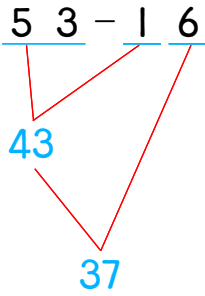


☺ 주어진 덧셈을 여러 가지 방법으로 계산해 보세요.
 다음의 방법을 사용하거나 새로운 방법으로 계산해 보세요.



43 - 26

--	--

54 - 17

--	--

