


☺ 그림을 보고 덧셈식과 뺄셈식으로 나타내세요.



흰 바둑돌과 검은 바둑돌의 수를 합하면?

$$5 + 4 = 9$$

덧셈식

또는



$$4 + 5 = 9$$

바둑돌 전체 중에서 흰 바둑돌의 수는?

뺄셈식  $9 - 4 = 5$

바둑돌 전체 중에서 검은 바둑돌의 수는?

뺄셈식  $9 - 5 = 4$



$$\underline{\quad} + \underline{\quad} = \underline{\quad}$$

$$\underline{\quad} + \underline{\quad} = \underline{\quad}$$

$$\underline{\quad} - \underline{\quad} = \underline{\quad}$$

$$\underline{\quad} - \underline{\quad} = \underline{\quad}$$

$$\underline{\quad} + \underline{\quad} = \underline{\quad}$$

$$\underline{\quad} + \underline{\quad} = \underline{\quad}$$

$$\underline{\quad} - \underline{\quad} = \underline{\quad}$$

$$\underline{\quad} - \underline{\quad} = \underline{\quad}$$

