


☺ 그림을 보고 덧셈식과 뺄셈식으로 나타내세요.



흰 바둑돌과 검은 바둑돌의 수를 합하면?

$$2 + 8 = 10$$

덧셈식

또는



$$8 + 2 = 10$$

바둑돌 전체 중에서 흰 바둑돌의 수는?

뺄셈식 $10 - 8 = 2$

바둑돌 전체 중에서 검은 바둑돌의 수는?

뺄셈식 $10 - 2 = 8$



+	=
_____	_____
+	=
_____	_____
-	=
_____	_____
-	=
_____	_____

+	=
_____	_____
+	=
_____	_____
-	=
_____	_____
-	=
_____	_____

