


☺ 그림을 보고 덧셈식과 뺄셈식으로 나타내세요.



흰 바둑돌과 검은 바둑돌의 수를 합하면?

$$9 + 6 = 15$$

덧셈식

또는


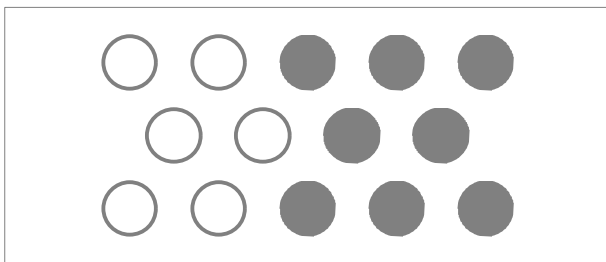
$$6 + 9 = 15$$

바둑돌 전체 중에서 흰 바둑돌의 수는?

뺄셈식 $15 - 6 = 9$

바둑돌 전체 중에서 검은 바둑돌의 수는?

뺄셈식 $15 - 9 = 6$



+	=
_____	_____
+	=
_____	_____
-	=
_____	_____
-	=
_____	_____

+	=
_____	_____
+	=
_____	_____
-	=
_____	_____
-	=
_____	_____

