


☺ □를 사용한 식으로 나타내고 답을 구하세요.

도토리 7개가 있습니다. 몇 개를 더 주웠더니 12개가 되었습니다. 더 주운 도토리는 몇 개일까요?



식 $7 + \square = 12$

답 5 개

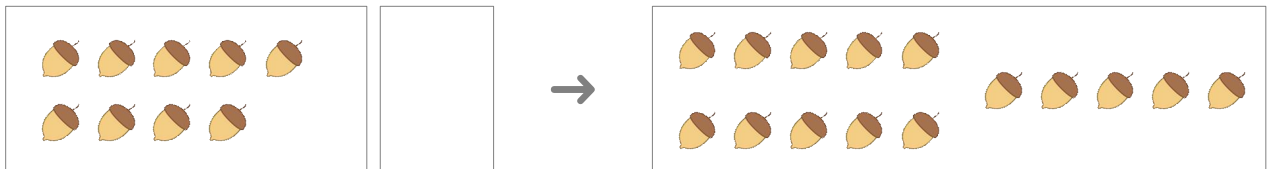
도토리 4개가 있습니다. 몇 개를 더 주웠더니 11개가 되었습니다. 더 주운 도토리는 몇 개일까요?



식 _____

답 _____ 개


도토리 9개가 있습니다. 몇 개를 더 주웠더니 15개가 되었습니다. 더 주운 도토리는 몇 개일까요?



식 _____

답 _____ 개

도토리 15개가 있습니다. 몇 개를 더 주웠더니 20개가 되었습니다. 더 주운 도토리는 몇 개일까요?



식 _____

답 _____ 개

