


☺ □를 사용한 식으로 나타내고 답을 구하세요.

레몬 9개가 있습니다. 몇 개를 더 샀더니 12개가 되었습니다. 더 산 레몬은 몇 개일까요?



식 $9 + \square = 12$

답 3 개


레몬 8개가 있습니다. 몇 개를 더 샀더니 16개가 되었습니다. 더 산 레몬은 몇 개일까요?



식 _____

답 _____ 개


레몬 12개가 있습니다. 몇 개를 더 샀더니 20개가 되었습니다. 더 산 레몬은 몇 개일까요?



식 _____

답 _____ 개

레몬 18개가 있습니다. 몇 개를 더 샀더니 24개가 되었습니다. 더 산 레몬은 몇 개일까요?



식 _____

답 _____ 개

