


☺ □를 사용한 식으로 나타내고 답을 구하세요.

달걀 12개가 있습니다. 몇 개를 먹었더니 8개가 되었습니다. 먹은 달걀은 몇 개일까요?



식 $12 - \square = 8$

답 4 개


달걀 12개가 있습니다. 몇 개를 먹었더니 5개가 되었습니다. 먹은 달걀은 몇 개일까요?



식 _____

답 _____ 개


달걀 15개가 있습니다. 몇 개를 먹었더니 11개가 되었습니다. 먹은 달걀은 몇 개일까요?



식 _____

답 _____ 개

달걀 20개가 있습니다. 몇 개를 먹었더니 12개가 되었습니다. 먹은 달걀은 몇 개일까요?



식 _____

답 _____ 개

