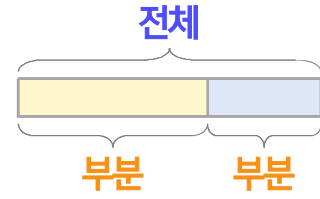
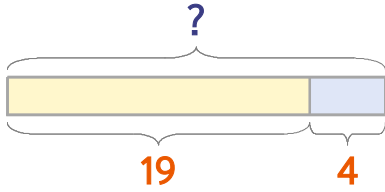


부분과 전체를 생각하며 문제를 해결해 보세요.

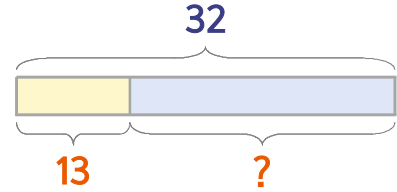


붕어빵을 언니가 19개 샀고 동생이 4개 샀습니다. 두 사람이 산 붕어빵을 합하면 몇 개일까요?



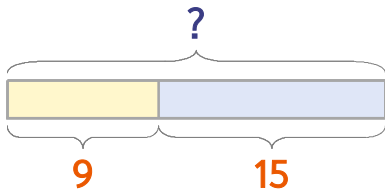
식  $19+4=23$       답 **23개**

교실에 학생이 32명 있는데 그중에서 13명이 여학생입니다. 남학생은 몇 명 일까요?



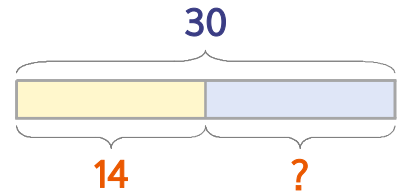
식  $32-13=19$       답 **19명**

**1** 붕어빵을 언니가 9개 샀고 동생이 15개 샀습니다. 두 사람이 산 붕어빵을 합하면 몇 개일까요?



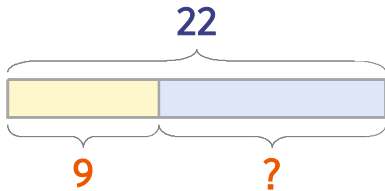
식                      답

**2** 교실에 학생이 30명 있는데 그중에서 14명이 여학생입니다. 남학생은 몇 명일까요?



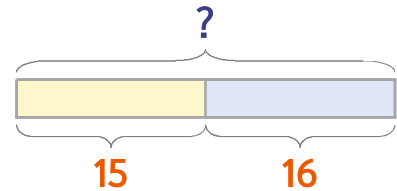
식                      답

**3** 버스에 어른과 어린이가 합해서 22명 타고 있는데 그중에서 어린이가 9명입니다. 어른은 몇 명일까요?



식                      답

**4** 교실에 남학생 15명과 여학생 16명이 있습니다. 교실에 있는 학생은 모두 몇 명일까요?



식                      답

