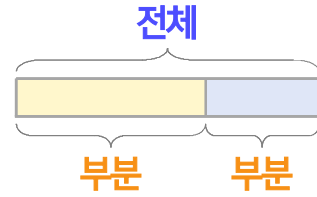
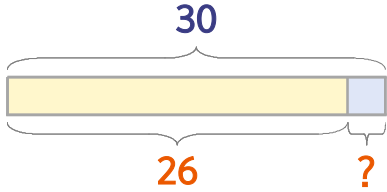


부분과 전체를 생각하며 문제를 해결해 보세요.

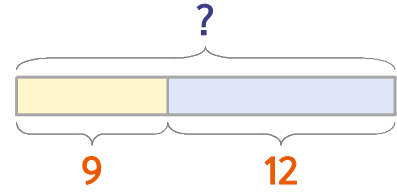


파란 풍선과 노란 풍선이 합해서 30개 있습니다. 이 중에서 노란 풍선이 26개이면 파란 풍선은 몇 개일까요?



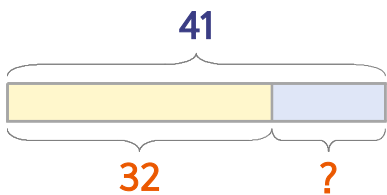
식 $30-26=4$ 답 **4개**

놀이터에 여학생이 9명, 남학생이 12명 있습니다. 놀이터에 있는 학생은 모두 몇 명일까요?



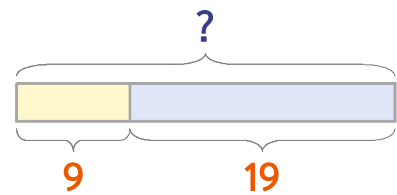
식 $9+12=21$ 답 **21명**

1 파란 풍선과 노란 풍선이 합해서 41개 있습니다. 이 중에서 노란 풍선이 32개이면 파란 풍선은 몇 개일까요?



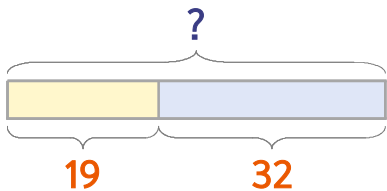
식 _____ 답 _____

2 놀이터에 남학생이 9명, 여학생이 19명 있습니다. 놀이터에 있는 학생은 모두 몇 명일까요?



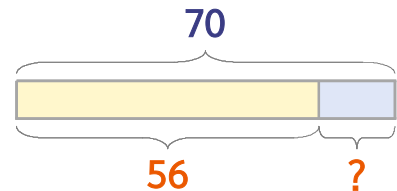
식 _____ 답 _____

3 운동장에 남학생이 19명, 여학생이 32명 있습니다. 운동장에 있는 학생은 모두 몇 명일까요?



식 _____ 답 _____

4 보라색 색종이와 초록색 색종이가 합해서 70장 있습니다. 이 중에서 보라색 색종이가 56장이면 초록색 색종이는 몇 장일까요?



식 _____ 답 _____

