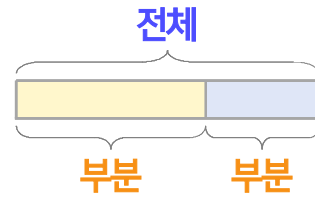
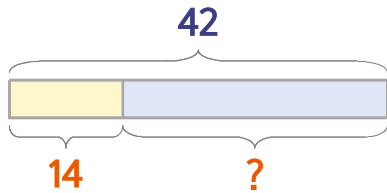


부분과 전체를 생각하며 문제를 해결해 보세요.

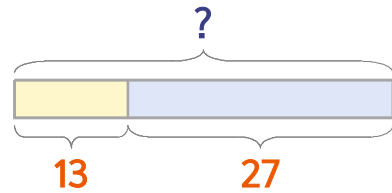


학급문고에 만화책과 동화책이 합해서 42권 있습니다. 이 중에서 만화책이 14권이면 동화책은 몇 권일까요?



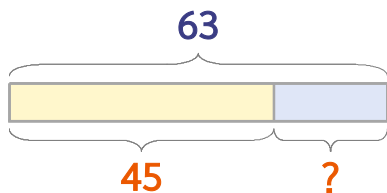
식 $42-14=28$ 답 **28권**

딸기우유가 13개, 바나나우유가 27개 있습니다. 두 종류 우유를 합하면 몇 개일까요?



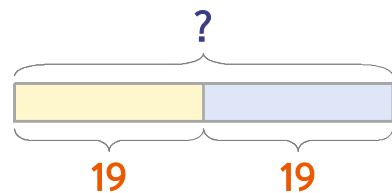
식 $13+27=40$ 답 **40개**

1 학급문고에 만화책과 동화책이 합해서 63권 있습니다. 이 중에서 동화책이 45권이면 만화책은 몇 권일까요?



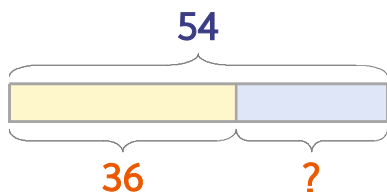
식 _____ 답 _____

2 딸기우유가 19개, 초코우유가 19개 있습니다. 두 종류 우유를 합하면 몇 개일까요?



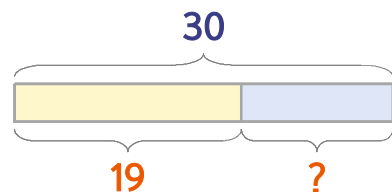
식 _____ 답 _____

3 민성이는 동화책 54권을 가지고 있습니다. 이 중에서 36권을 읽었다면 읽지 않은 책은 몇 권일까요?



식 _____ 답 _____

4 우유 30개가 있는데 이 중에서 19개는 초코우유이고 나머지는 딸기우유입니다. 딸기우유는 몇 개일까요?



식 _____ 답 _____

