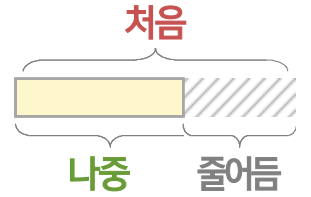
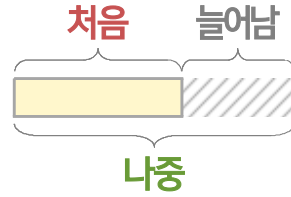
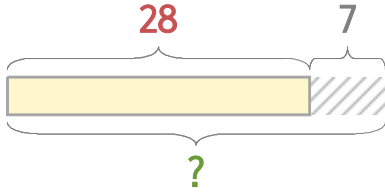


처음과 나중을 생각하며 문제를 해결해 보세요.

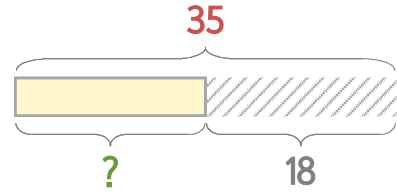


빵집에 식빵 28개가 있는데 7개를 더 만들었습니다. 식빵은 모두 몇 개가 되었을까요?



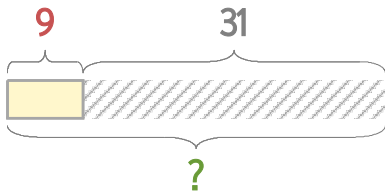
식  $28+7=35$       답  $35$ 개

빵집에 식빵 35개가 있는데 이중에서 18개를 팔았습니다. 남은 식빵은 몇 개일까요?



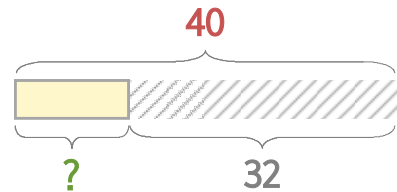
식  $35-18=17$       답  $17$ 개

1 빵집에 단팥빵 9개가 있는데 31개를 더 만들었습니다. 단팥빵은 모두 몇 개가 되었을까요?



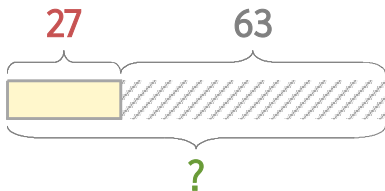
식 \_\_\_\_\_      답 \_\_\_\_\_

2 빵집에 단팥빵 40개가 있는데 이중에서 32개를 팔았습니다. 남은 단팥빵은 몇 개일까요?



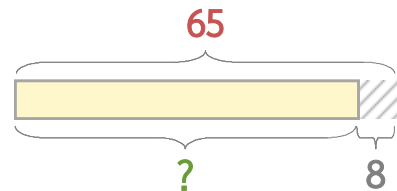
식 \_\_\_\_\_      답 \_\_\_\_\_

3 진아가 색종이 27장을 가지고 있었는데 63장을 더 샀습니다. 색종이는 모두 몇 장이 되었을까요?



식 \_\_\_\_\_      답 \_\_\_\_\_

4 진아가 색종이 65장을 가지고 있었는데 8장을 친구에게 주었습니다. 남은 색종이는 몇 장일까요?



식 \_\_\_\_\_      답 \_\_\_\_\_

