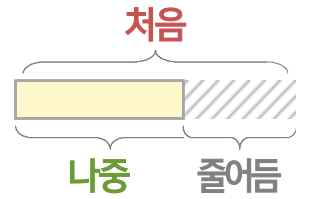
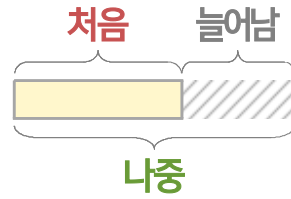
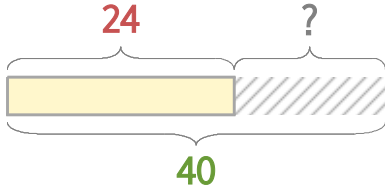


처음과 나중을 생각하며 문제를 해결해 보세요.

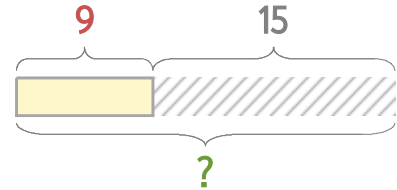


어항에 물고기 24마리가 있었는데 며칠 후에 보니 40마리가 되었습니다. 몇 마리가 늘어났나요?



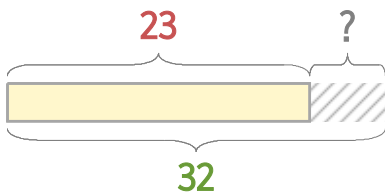
식 $40 - 24 = 16$ 답 16마리

윤아는 9살입니다. 15년 후에는 몇 살이 될까요?



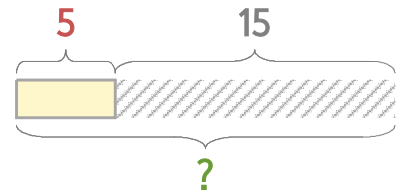
식 $9 + 15 = 24$ 답 24살

1 어항에 물고기 23마리가 있었는데 며칠 후에 보니 32마리가 되었습니다. 몇 마리가 늘어났나요?



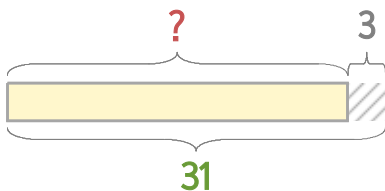
식 _____ 답 _____

2 윤아의 동생은 5살입니다. 15년 후에는 몇 살이 될까요?



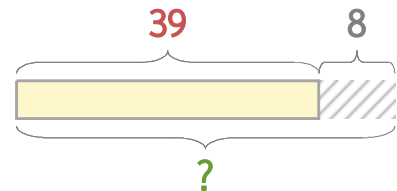
식 _____ 답 _____

3 윤아의 삼촌은 31살입니다. 3년 전에는 몇 살이었을까요?



식 _____ 답 _____

4 어항에 물고기 39마리가 있었는데 8마리를 더 넣었습니다. 물고기는 모두 몇 마리가 되었을까요?



식 _____ 답 _____

