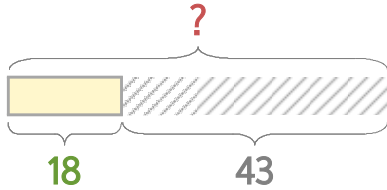


처음과 나중을 생각하며 문제를 해결해 보세요.

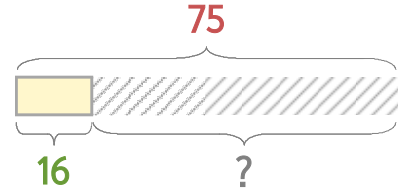


피자가게에서 피자 43판을 팔았더니 18판이 남았습니다. 원래 있던 피자는 몇 판일까요?



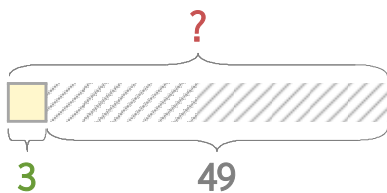
식 $18+43=61$ 답 **61판**

도넛가게에 도넛 75개가 있었는데 몇 개를 팔았더니 16개가 남았습니다. 몇 개를 팔았을까요?



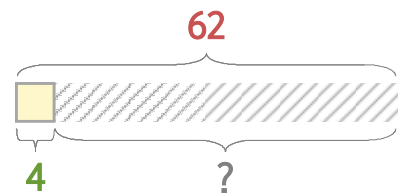
식 $75-16=59$ 답 **59개**

1 피자가게에서 피자 49판을 팔았더니 3판이 남았습니다. 원래 있던 피자는 몇 판일까요?



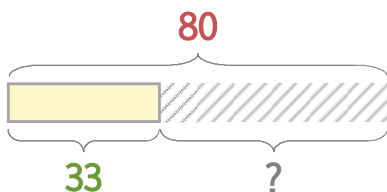
식 _____ 답 _____

2 도넛가게에 도넛 62개가 있었는데 몇 개를 팔았더니 4개가 남았습니다. 몇 개를 팔았을까요?



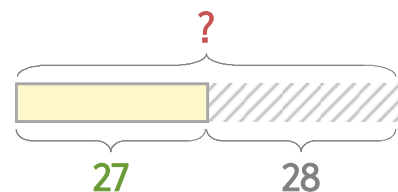
식 _____ 답 _____

3 과자가 한 상자에 80개 들어 있었는데 몇 개를 먹고나니 33개가 남았습니다. 몇 개를 먹었을까요?



식 _____ 답 _____

4 감자 한 상자를 사서 27개를 먹었더니 28개가 남았습니다. 원래 있던 감자는 몇 개일까요?



식 _____ 답 _____

