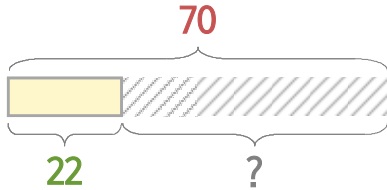


처음과 나중을 생각하며 문제를 해결해 보세요.

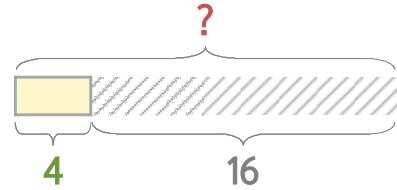


색종이 70장 중에서 몇 장을 사용하니 22장이 남았습니다. 몇 장을 사용했을까요?



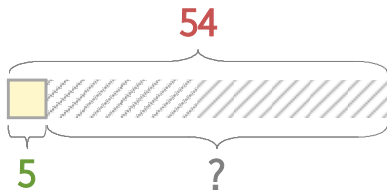
식  $70-22=48$       답 **48장**

마카롱이 몇 개 있었는데 16개를 먹었더니 4개가 남았습니다. 마카롱은 원래 몇 개 있었을까요?



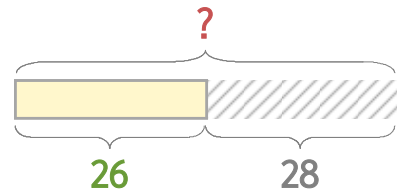
식  $4+16=20$       답 **20개**

1 도화지 54장 중에서 몇 장을 사용하니 5장이 남았습니다. 몇 장을 사용했을까요?



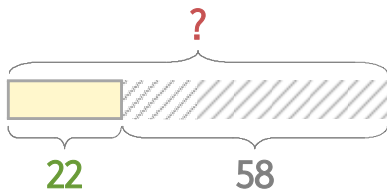
식 \_\_\_\_\_      답 \_\_\_\_\_

2 초콜릿이 몇 개 있었는데 26개를 먹었더니 28개가 남았습니다. 초콜릿은 원래 몇 개 있었을까요?



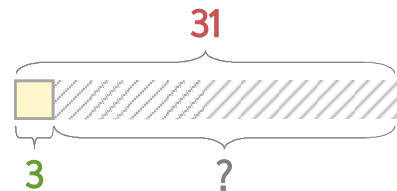
식 \_\_\_\_\_      답 \_\_\_\_\_

3 운동장에 있던 학생들 중에서 58명이 돌아가니 22명이 남았습니다. 운동장에 있던 학생은 원래 몇 명이었을까요?



식 \_\_\_\_\_      답 \_\_\_\_\_

4 교실에 학생들이 31명 있었는데 몇 명이 돌아가니 3명이 남았습니다. 돌아간 학생은 몇 명일까요?



식 \_\_\_\_\_      답 \_\_\_\_\_

