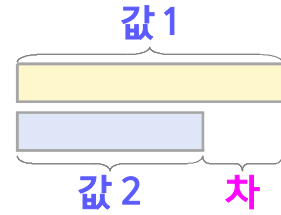
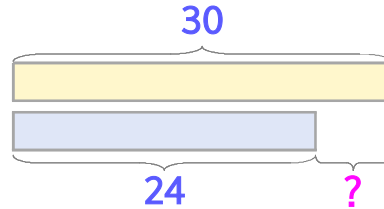


두 수의 크기를 비교하며 문제를 해결해 보세요

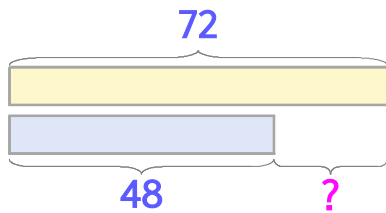


사과는 30개, 배는 24개입니다. 사과가 몇 개 더 많을까요?



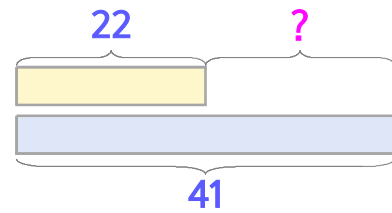
식 $30-24=6$ 답 **6개**

1 꿀은 72개, 감은 48개입니다. 꿀이 몇 개 더 많을까요?



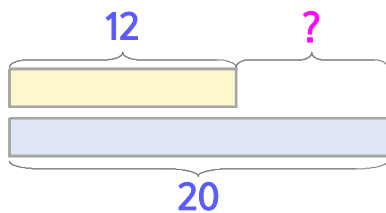
식 _____ 답 _____

2 감자는 22개, 고구마는 41개입니다. 고구마가 몇 개 더 많을까요?



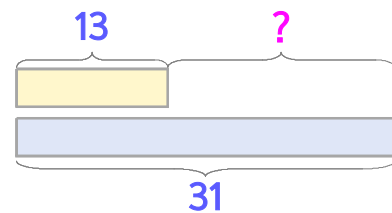
식 _____ 답 _____

3 교실에 남학생은 12명, 여학생은 20명입니다. 여학생이 몇 명 더 많을까요?



식 _____ 답 _____

4 운동장에 남학생은 13명, 여학생은 31명입니다. 여학생이 몇 명 더 많을까요?



식 _____ 답 _____

