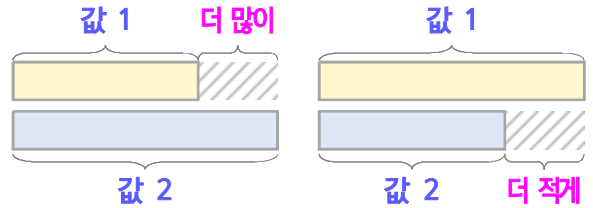
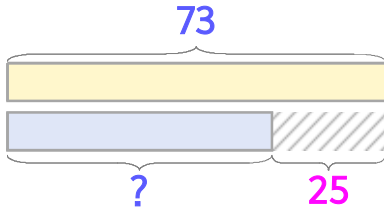


두 수의 크기를 비교하며 문제를 해결해 보세요

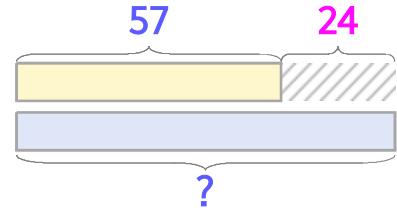


게임을 해서 은수는 73점을 얻었고 준호는 은수보다 25점 적습니다. 준호는 몇 점일까요?



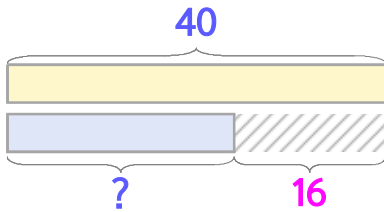
식  $73-25=48$       답 **48점**

게임을 해서 윤아는 57점을 얻었고 민지는 윤아보다 24점 많습니다. 민지는 몇 점일까요?



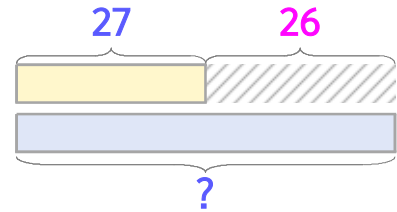
식  $57+24=81$       답 **81점**

1 동물원에 사슴은 40마리 있고 얼룩말은 사슴보다 16마리 적습니다. 얼룩말은 몇 마리일까요?



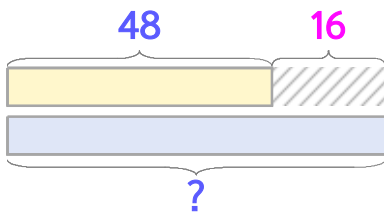
식 \_\_\_\_\_      답 \_\_\_\_\_

2 동물원에 사슴은 27마리 있고 토끼는 사슴보다 26마리 많습니다. 토끼는 몇 마리일까요?



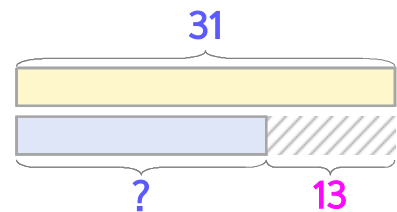
식 \_\_\_\_\_      답 \_\_\_\_\_

3 방학 동안 은수는 책을 48권 읽었고 윤아는 은수보다 16권 많이 읽었습니다. 윤아는 책을 몇 권 읽었을까요?



식 \_\_\_\_\_      답 \_\_\_\_\_

4 방학 동안 은수는 심부름을 31번 했고, 준호는 은수보다 13번 적게 했습니다. 준호는 심부름을 몇 번 했을까요?



식 \_\_\_\_\_      답 \_\_\_\_\_

