

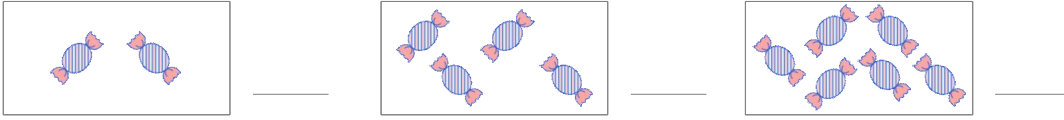


### 선수 학습 확인

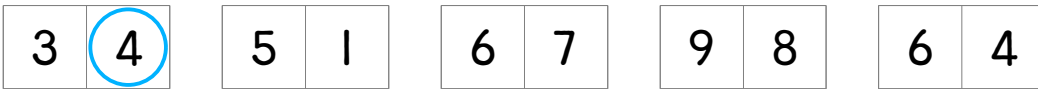
- 점의 수를 써 보세요.



- 사탕의 수를 써 보세요.



- 더 큰 수에 ○ 하세요.

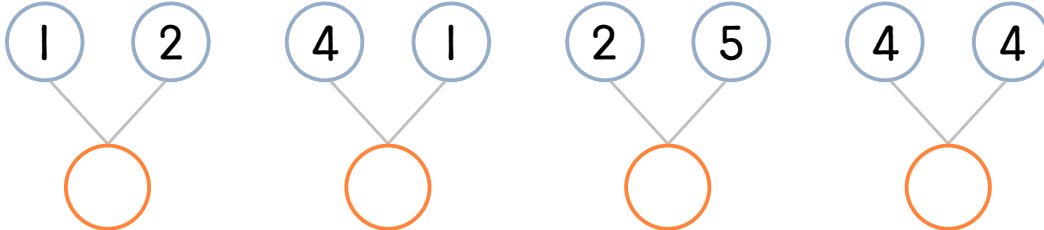


단원

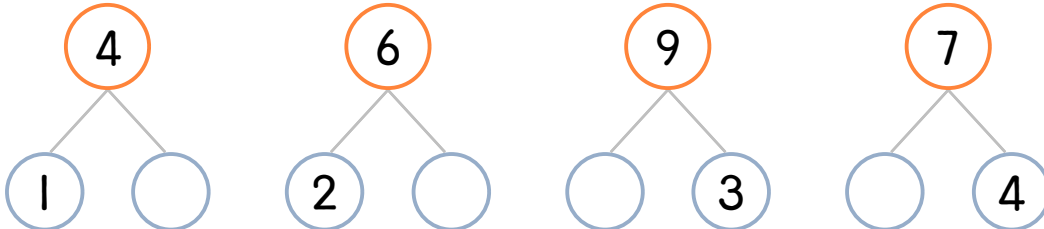
1-1  
1단원 9까지의 수

### 단원 학습 확인

- 모으기를 해 보세요.



- 가르기를 해 보세요.



차시

01~06  
모으기와 가르기

- 덧셈식이나 뺄셈식으로 쓰고 답을 구하세요.

	식	답
물고기 3마리와 4마리를 합하면 모두 몇 마리일까요?		
사탕 7개 중에서 5개를 먹었습니다. 남은 사탕은 몇 개일까요?		
책이 5권 있는데 4권을 더 샀습니다. 책은 몇 권일까요?		
바나나는 2개, 사과 8개 있습니다. 사과가 몇 개 더 많은가요?		

07~10  
덧셈식 만들기

11~14  
뺄셈식 만들기

- 계산을 하세요.

$6 + 0$	$5 - 0$	$8 + 1$
$0 + 6$	$5 - 5$	$8 + 0$
$4 + 4$	$5 - 1$	$8 - 0$

16 0이 있는  
덧셈과 뺄셈