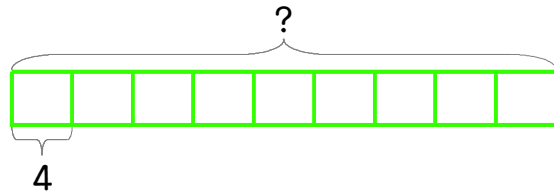
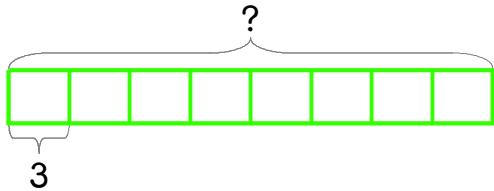


한 모듬에 어린이가 4명씩 있습니다. 모듬이 9개이면 어린이가 몇 명일까요?



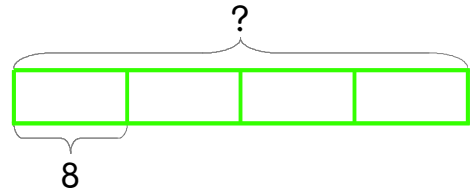
식 $4 \times 9 = 36$ 답 36명

1 한 모듬에 어린이가 3명씩 있습니다. 모듬이 8개이면 어린이가 몇 명일까요?



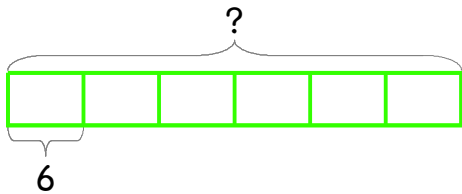
식 _____ 답 _____

2 긴 의자 한 개에 8명씩 앉을 수 있습니다. 긴 의자 4개에 몇 명이 앉을 수 있을까요?



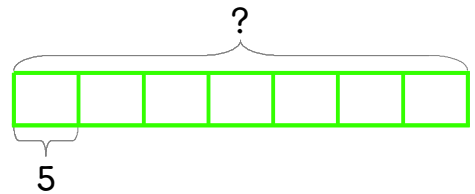
식 _____ 답 _____

3 민호는 멀리뛰기를 6번 했고 윤호는 민호보다 6배만큼 했습니다. 윤호는 멀리뛰기를 몇 번 했을까요?



식 _____ 답 _____

4 민호는 미끄럼틀을 5번 탔고 윤호는 민호보다 7배만큼 탔습니다. 윤호는 미끄럼틀을 몇 번 탔을까요?



식 _____ 답 _____

