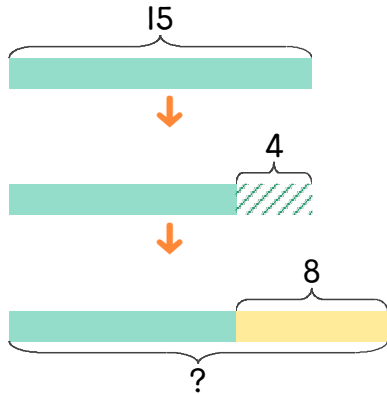


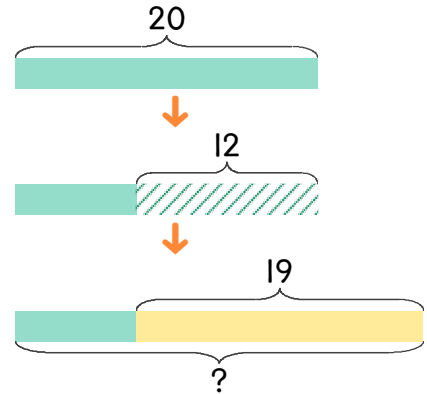
1 버스에 승객 15명이 타고 있는데 정류장에서 4명이 내리고 8명이 탭니다. 승객은 몇 명이 되었는지 하나의 식으로 나타내고 답을 구하세요.



식 $15 - 4 + 8 = 19$

답 19명

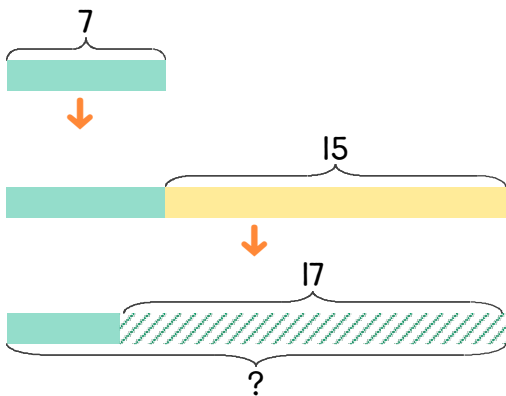
2 버스에 승객 20명이 타고 있는데 정류장에서 12명이 내리고 19명이 탭니다. 승객은 몇 명이 되었는지 하나의 식으로 나타내고 답을 구하세요.



식

답

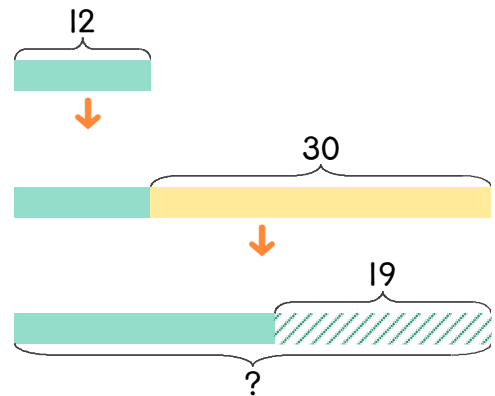
3 냉장고에 달걀이 7개 있는데 15개를 사고 17개를 먹었습니다. 남은 달걀은 몇 개인지 하나의 식으로 나타내고 답을 구하세요.



식

답

4 냉장고에 달걀이 12개 있는데 30개를 사고 19개를 먹었습니다. 남은 달걀은 몇 개인지 하나의 식으로 나타내고 답을 구하세요.



식

답

