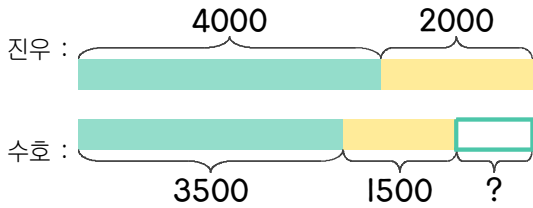


1 진우는 치즈버거와 주스를 먹었고 수호는 햄버거와 콜라를 먹었습니다. 진우는 수호보다 얼마를 더 내야 하는지 하나의 식으로 나타내고 답을 구하세요.

| | | | |
|------|-------|----|-------|
| 햄버거 | 3500원 | 콜라 | 1500원 |
| 치즈버거 | 4000원 | 주스 | 2000원 |

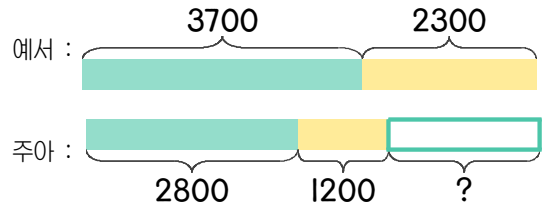


식 $(4000+2000)-(3500+1500)=1000$

답 1000원

2 예서는 샌드위치와 코코아를 먹었고 주아는 토스트와 우유를 먹었습니다. 예서는 주아보다 얼마를 더 내야 하는지 하나의 식으로 나타내고 답을 구하세요.

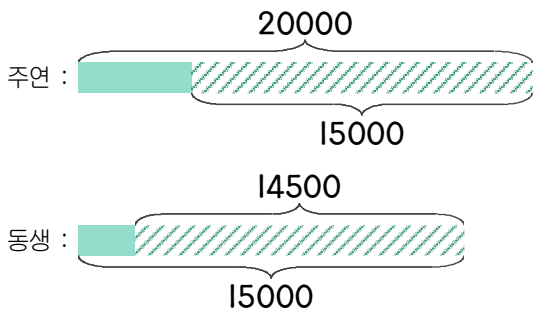
| | | | |
|------|-------|-----|-------|
| 샌드위치 | 3700원 | 우유 | 1200원 |
| 토스트 | 2800원 | 코코아 | 2300원 |



식

답

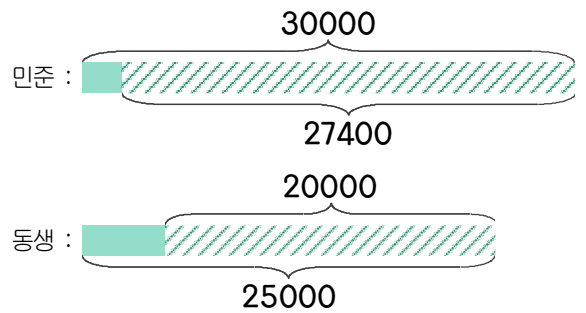
3 주연이는 용돈 20000원 중에서 15000원을 썼고 동생은 용돈 15000원 중에서 14500원을 썼습니다. 남은 용돈은 주연이가 얼마나 더 많은지 하나의 식으로 나타내고 답을 구하세요.



식

답

4 민준이는 용돈 30000원 중에서 27400원을 썼고 동생은 용돈 25000원 중에서 20000원을 썼습니다. 남은 용돈은 동생이 얼마나 더 많은지 하나의 식으로 나타내고 답을 구하세요.



식

답

