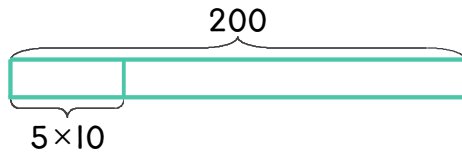


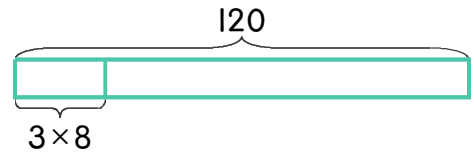
1 학교 축제를 위해 풍선 200개를 불어야 합니다. 한 사람이 1시간 동안 10개를 불 수 있습니다. 5명이 몇 시간 동안 불면 되는지 하나의 식으로 나타내고 답을 구하세요.



식 $200 \div (5 \times 10) = 4$

답 4시간

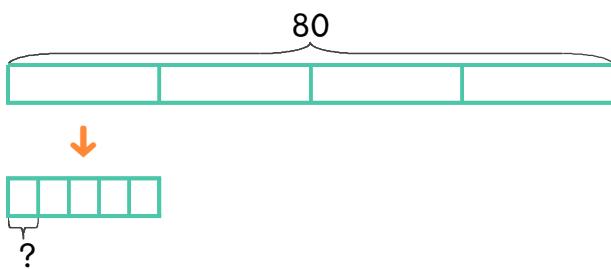
2 학교 축제를 위해 풍선 120개를 불어야 합니다. 한 사람이 1시간 동안 8개를 불 수 있습니다. 3명이 몇 시간 동안 불면 되는지 하나의 식으로 나타내고 답을 구하세요.



식

답

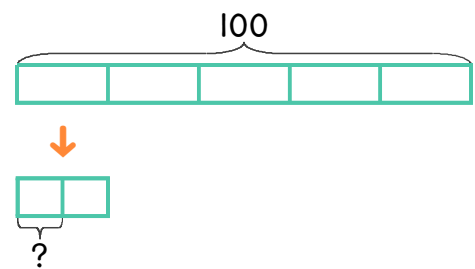
3 사탕 80개를 상자 4개에 똑같이 나누어 담았습니다. 각 상자에 들어있는 사탕을 5명이 똑같이 나누어 가졌습니다. 한 사람은 사탕을 몇 개씩 가졌는지 하나의 식으로 나타내고 답을 구하세요.



식

답

4 초콜릿 100개를 상자 5개에 똑같이 나누어 담았습니다. 각 상자에 들어있는 초콜릿을 2명이 똑같이 나누어 가졌습니다. 한 사람은 초콜릿을 몇 개씩 가졌는지 하나의 식으로 나타내고 답을 구하세요.



식

답

